



هيا نحصي ما يلي:



هيا نلّون الاعداد الزوجية بالوان جميلة :

1	2	3	4	5	6	7	8	9	10
11	12	13	14	15	16	17	18	19	20

نلّون الاعداد الفردية :

1	2	3	4	5	6	7	8	9	10
11	12	13	14	15	16	17	18	19	20

جد العدد الناقص:

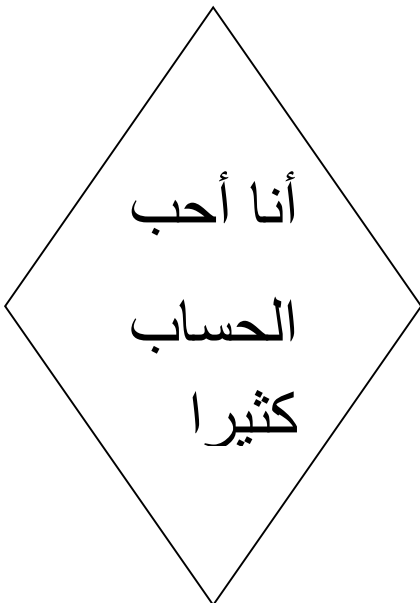
من يأتي بعدي 5 _____

عدد أكبر مني بواحد 9 _____

عدد أكبر مني باثنين 6 _____

عدد يليني 3 _____

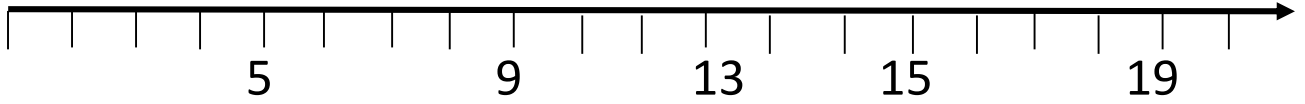
عدد اصغر مني بواحد 10 _____



نكمل الناقص:

1			4			7			10
	12			15			18		

أكمل المستقيم أيها البطل :



وأكتب الاشارة الملائمة : = < >

