

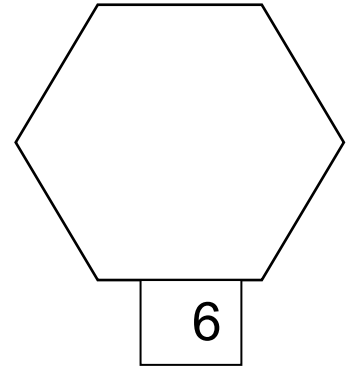
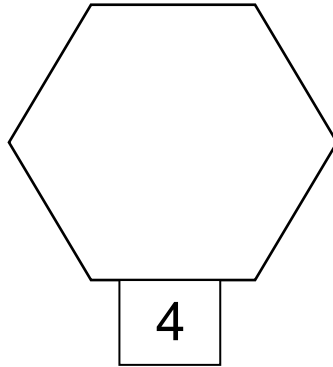
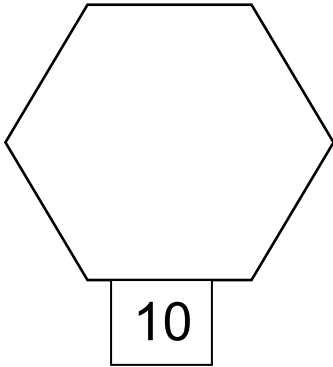
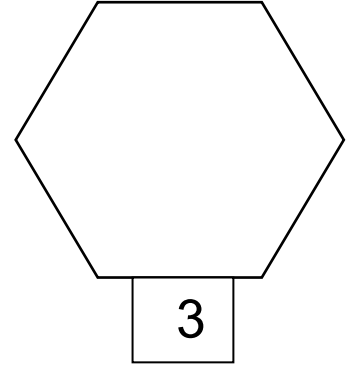
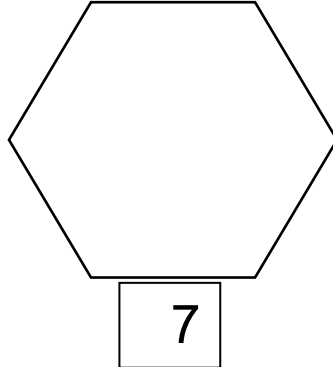
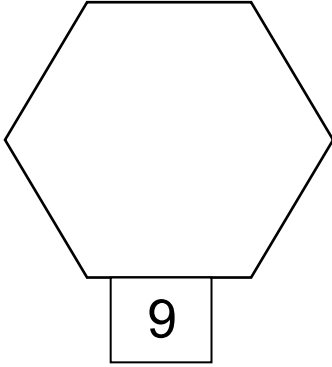




اوراق عمل

اسمي ----- التاريخ -----

أرسم الكمية الملائمة للعدد :



لوّن يا صغيري الاعداد الفردية بالون الاحمر والاعداد الزوجية بالون  
الاخضر

0	6	5	7	1	3
8	5	7	1	3	2
5	7	1	3	0	8

## اوراق عمل حساب

انا أكمل الناقص :

العدد الاكبر مني هو :

2 -----

1 -----

0 -----

5 -----

4 -----

3 -----

8 -----

7 -----

6 -----

العدد الاصغر مني :

----- 8

----- 10

----- 9

----- 9

----- 6

----- 7

----- 3

----- 4

----- 5

أكمل حسب المطلوب :

--	--

--	--

--	--

--	--

--	--

--	--

أكتب = &lt; &gt;

6 ----- 7

10 ----- 9

7 ----- 8

0 ----- 8

3 ----- 3

5 ----- 5

8 ----- 1

9 ----- 2

عد واكتب الكمية لكل نوع مما يلي :

